

CSSC-GS-II-VRS-2015
GENERAL STUDIES - PAPER-II

D

Total Marks : 200

Time Allowed : Two Hours

*Do not open this booklet until you
are asked to do so. તમને કહેવામાં ન
આવે ત્યાં સુધી પ્રશ્નપુસ્તિકા ખોલવી નહીં.*

2202512

[]

ઉમેદવારનો સીટ નંબર

ખંડ નિરીક્ષકની સહી

ઉમેદવારની સહી

Read the Following Instructions Carefully (નીચેની સૂચનાઓ ધ્યાનપૂર્વક વાંચો)

- (1) Please write **Seat No., Question Booklet Number and Category** on answer sheet (OMR Sheet) without fail.
(તમારો સીટ નંબર, પ્રશ્નપત્ર બુક્લેટ નંબર અને કેટેગરી જવાબવહી પર કોઈપણ જાતની ભૂલ વગર અવશ્ય લખો.)
- (2) Each question carries 2.5 marks. Wrong answer or more than one answer in one question will carry 33% (1/3 Marks) negative marking.
(દરેક પ્રશ્નના ૨.૫ ગુણ છે. ખોટા જવાબ અથવા એક કરતાં વધુ જવાબ માટે ૩૩% ગુણ (૧/૩ ગુણ) નકારાત્મક ગુણ ધરાવે છે.)
- (3) You have to mark (●) the right alternative (A or B or C or D) for each question in the answer sheet with **Blue/Black ballpoint pen only**.
(તમારે જવાબવહીમાં દરેક પ્રશ્ન માટેનો યોગ્ય વિકલ્પ (A અથવા B અથવા C અથવા D) પસંદ કરી કાળી/વાદળી બોલપોઈન્ટ પેન વડે ચિહ્નિત (●) કરવું.)
- (4) Rough work, if any; be done on the last blank page of Question Paper.
(કોઈ પણ જાતનું રફ કાર્ય પ્રશ્નપત્રના અંતિમ કોરા પેજ પર જ કરવાનું રહેશે.)
- (5) In case of confusion in Gujarati Question, rely on English Question. English text will be final.
(જો ગુજરાતી પ્રશ્નોમાં દિશા હોય તો અંગ્રેજી પ્રશ્ન પરનો સંદર્ભ લઈ તેના પર આધાર રાખવો. અંગ્રેજી ભાષા અર્થઘટન માટે આખરી ગણાશે.)
- (6) General Studies Paper-II is of qualifying nature only, wherein candidate must score minimum 33% marks.
(સામાન્ય અધ્યયન પેપર-૨ ક્વાલીફાઈંગ છે, જેમાં ઉમેદવારે ઓછામાં ઓછા ૩૩% ગુણ લાવવાના રહેશે.)
- (7) Marks scored by candidate in Paper-II will not be counted for the merit list.
(પેપર-૨માં ઉમેદવારે મેળવેલ ગુણ મેરીટ લીસ્ટમાં ગણવામાં આવશે નહીં.)

CSSC-GS-II-VRS-2015_D

1

P.T.O.

SEAL

BLANK PAGE

Read the following passage carefully and answer the question no. 1 to 5 given below:

Something strange haunts the cultural landscape of America. Moviemakers and television producers have become the most powerful, though perhaps not the most careful historians. It seems fair to say more people are getting their history or what they think is history, from the movies these days than from the standard history books. The phenomenon is probably unavoidable, yet, if the history as presented by the movies turns out to be a Mode of fantasy and fact, the consequences cannot be good. In the 16th century, Francis Bacon said that history makes men wise. It follows that bad history, trivialised history, history distorted and sensationalized can make them foolish. There is indeed something disconcerting about the tendency of today's movies-as history to construct multi-colored and sound tracked edifices of entertainment on the slender foundation of what appears to be factual events.

નીચેનો ફકરો કાળજીપૂર્વક વાંચી પ્રશ્ન નં. 1-5ના ઉત્તરો આપો :

કંઈક વિચિત્ર વસ્તુ અમેરિકાનું સાંસ્કૃતિક દ્રશ્યને ડરામણું બનાવે છે. ફિલ્મો અને ટેલીવીઝન કાર્યક્રમ બનાવવાવાળા ખૂબ શક્તિશાળી બની ગયા છે, છતાં ઝીણવટભર્યા ઇતિહાસકારો જેવા નથી. એ કહેવું યોગ્ય જ છે કે ઘણા બધા લોકો તેમના ઇતિહાસ અથવા ઇતિહાસ વિશેના તેમના વિચારોએ સંસ્થાપિત ઇતિહાસના પુસ્તકો કરતા વધારે ફિલ્મોમાંથી જાણી લે છે. આ ઘટના જો કે અનિવાર્ય નથી, છતાં જો ફિલ્મોમાં બતાવેલ ઇતિહાસ અને કલ્પના, ચિત્ર અને હકીકતનું માધ્યમ બની જશે તો તેના પરિણામો સારા નહીં હોય. 16મી સદીમાં ફ્રાન્સીસ બેકને કહ્યું હતું કે ઇતિહાસ એ મનુષ્યને મહાન/શાણો બનાવે છે. ખોટો ઇતિહાસ, વિકૃત ઇતિહાસ, શુલ્લક ઇતિહાસ, ચમક-દમક વાળો ઇતિહાસ તેમને મૂરખા બનાવી શકે છે. અત્યારની ફિલ્મોના વલણમાં કંઈક મૂંઝવણભર્યું એ છે કે એક ઇતિહાસની સત્ય ઘટનાને કઈ રીતે બહુરંગી અને મનોરંજક બનાવી શકે.

1 Consider following statements

1. moviemakers can manipulate the actual events of history
2. the quality of standard history books has deteriorated

Which of the above statements are correct?

- (A) only 1 (B) only 2
(C) both 1 and 2 (D) neither 1 nor 2

નીચેના વિધાનો પર વિચાર કરો

1. ફિલ્મકારો ઇતિહાસની ઘટનાઓને તોડી મરોડી નાખવાની ક્ષમતા ધરાવે છે.
2. ઇતિહાસના પુસ્તકોની ગુણવત્તામાં કમી આવી છે.

ઉપરોક્ત પૈકી કયાં વાક્યો સાચાં છે?

- (A) માત્ર 1 (B) માત્ર 2
(C) 1 અને 2 બન્ને (D) બંનેમાંથી એક પણ નહીં

2 As historians, moviemakers are :

- (A) both powerful and careful
- (B) powerful but not sticklers for accuracy
- (C) neither powerful not careful
- (D) forced to stick to facts

ઈતિહાસકારો તરીકે ફિલ્મ નિર્માતાઓ

- (A) શક્તિશાળી અને સાવચેત હોય છે
- (B) શક્તિશાળી હોય છે પણ ચોકસાઈ પ્રત્યે ચીવટ નથી રાખતા
- (C) શક્તિશાળી કે સાવચેત નથી હોતા
- (D) તેમને હકીકતો પ્રત્યે વળગી રહેવા માટે ફરજ પાડવામાં આવે છે.

3 Francis Bacon's statement that 'history makes men wise' is interpreted by the author as follows

- (A) history aided by technological support makes men wise
- (B) history as a plain and actual record of events makes men wise
- (C) a sentimentalized account of events is good history as it gives pleasure
- (D) good history cannot dispense the help offered by movies

ફ્રાન્સીસ બેકનના વાક્ય "ઈતિહાસ મનુષ્યોને સમજદાર બનાવે છે"નું લેખક કેવી રીતે અર્થઘટન કરે છે?

- (A) ટેકનોલોજીથી મદદ પામેલ ઈતિહાસ મનુષ્યોને સમજદાર બનાવે છે.
- (B) ઘટનાઓના સાદા અને વાસ્તવિક નિરૂપણથી પ્રસ્તુત થયેલો ઈતિહાસ લોકોને સમજદાર બનાવે છે.
- (C) ઘટનાનું સંવેદનશીલ નિરૂપણ કરતો ઈતિહાસ એ સારો ઈતિહાસ છે કારણ કે તે મનને આનંદ આપે છે.
- (D) ચલચિત્રોથી મળતી મદદ વગર સારો ઈતિહાસ બની ન શકે.

4 Which one of the following statements best reflects the attitude of the author in the passage?

- (A) Author is all admiration for the moviemakers and television producers of America
- (B) Author regrets that moviemakers and television producers of America do not have good stories
- (C) Author does not find fault with trivialised or distorted history
- (D) Author does not really approve of people's way to rely on moviemakers and television producers to understand history.

આ ફકરાથી લેખકનો કયો અભિગમ પ્રસ્તુત થાય છે?

- (A) લેખક અમેરિકાના ચિત્રપટ નિર્માતાઓ અને ટીવી નિર્માતાઓને આદરથી જુએ છે.
- (B) અમેરિકાના ચિત્રપટ નિર્માતાઓ અને ટીવી નિર્માતાઓ પાસે સારી વાર્તાઓ નથી એવો લેખકને રંજ છે.
- (C) વિકૃત કરીને રજૂ કરાતા ઇતિહાસમાં લેખકને કોઈ ખામી દેખાતી નથી.
- (D) ચિત્રપટ નિર્માતાઓ અને ટીવી નિર્માતાઓ જોડેથી ઇતિહાસ સમજવાનો લોકોનો અભિગમ લેખકને મંજૂર નથી.

5 Consider following statements :

1. movies are responsible for the children in America to neglect their academic schedules
2. children in America are losing respect for their parents because of the influence of the technological advances depicted in the movies and television programs

Which of the above statements are correct?

- (A) only 1
- (B) only 2
- (C) both 1 and 2
- (D) neither 1 nor 2

આ વાક્યો તપાસો:

1. ચલચિત્રોને લીધે અમેરિકી બાળકો અભ્યાસમાં રુચિ આપતા નથી.
2. ટીવી અને ચલચિત્રોમાં દર્શાવેલ ટેકનોલોજીના પ્રભાવ હેઠળ અમેરિકી બાળકો પોતાના વાલીઓને આદર આપતા નથી.

ઉપરોક્ત પૈકી કયાં વાક્યો સાચાં છે?

- (A) માત્ર 1
- (B) માત્ર 2
- (C) 1 અને 2 બન્ને
- (D) બંનેમાંથી એક પણ નહીં

Read the following passage carefully and answer the question no. 6-10 given below :

We are living in the midst of a great chemical experiment, and some serious consequences are becoming apparent to the scientists. More than 2 billion pounds of chemicals has spewed into the air each year which are brewing a disastrous stew. The greatest consequences of the atmospheric crisis may be global warming and ozone depletion. The earth appears to be warming due to the greenhouse effect. Scientists estimate that average temperature could climb about 2°C in next 20 years. Global warming is the predicted result of the greenhouse effect. It is created by the greenhouse gases, such as carbon dioxide and methane, in the atmosphere. This change in the global climate would have disastrous results, including brought, coastal flooding and increased species extinction. Also, the scientists have discovered a hole in the ozone layer. The ozone layer is the only protection for life on earth against deadly ultraviolet radiation from the sun. Once the ozone layer is completely destroyed, all life on earth will cease to exist, killed by the deadly radiation. The planet will become apparent rock devoid of all life. And when this happens the process of industrialisation would have take the blame which has resulted in increased use of fossil fuels such as coal, petroleum and diesel.

નીચેનો ફકરો કાળજીપૂર્વક વાંચી પ્રશ્ન નં. 6-10ના ઉત્તરો આપો :

આપણે એક મહાન રાસાયણિક પ્રયોગની વચ્ચે રહીએ છીએ અને તેના ગંભીર પરિણામો વૈજ્ઞાનિકો સમક્ષ આવી રહ્યા છે. બે અબજ પાઉન્ડ કરતા પણ વધારે રસાયણો હવામાં દર વર્ષે ઠલવાય છે. વાતાવરણીય સંકટ એ ગ્લોબલ વોર્મિંગ અને ઓઝોનના સ્તરમાં ઘટાડો હોઈ શકે છે. પૃથ્વી ગ્રીન હાઉસ અસરને કારણે ગરમ થઈ રહી છે. વૈજ્ઞાનિકો અનુમાન લગાવી રહ્યા છે કે વીસ વર્ષમાં સરેરાશ તાપમાન 2 ડીગ્રી વધી શકે છે. ગ્લોબલ વોર્મિંગ એ ગ્રીન હાઉસ અસરનું અપેક્ષિત પરિણામ છે. તે વાતાવરણમાં ગ્રીન હાઉસ વાયુઓ જેવા કે કાર્બન ડાયોક્સાઈડ, મીથેન દ્વારા સર્જાય છે. વૈશ્વિક વાતાવરણના બદલાવના લીધે દુષ્કાળ, તટવર્તીય પ્રદેશમાં પૂર, પ્રજાતીઓનો વિનાશ પણ થઈ શકે છે. વૈજ્ઞાનિકોએ ઓઝોનસ્તરમાં ગાબડું પણ શોધ્યું છે. ઓઝોન સ્તર એ સૂર્યના પારજાંબલી કિરણોથી બચવા માટેનું પૃથ્વી પર જીવન માટેનું એક માત્ર રક્ષણ છે. એકવાર જો ઓઝોન સ્તરનો નાશ થઈ જાય તો જીવલેણ કિરણોથી પૃથ્વી પર જીવોનું અસ્તિત્વ મટી જશે. આ ગ્રહ એ જીવન વગરનો એક ખડક બની જશે, જો આવું થશે તો ઔદ્યોગિકરણને બધો જ દોષ ઉઠાવવો પડશે કે જેના પરિણામે કોલસો, પેટ્રોલ અને ડીઝલ જેવા ઈંધણનો વપરાશ વધ્યો છે.

- 6 Which of the following can be inferred from the given passage?
1. The use of all chemical products should be immediately stopped
 2. Scientists will have a hard time to estimate the rate of change of temperature in the years to come due to enormous change in the environment
 3. The environmental disaster in the future will happen as a result of increased usage of fossil fuels

Answer choices

- (A) only 1 (B) only 3
(C) both 1 and 3 (D) both 2 and 3

આપેલ ફકરામાંથી શું અનુમાન લગાવી શકાય?

1. બધા રાસાયણિક ઉત્પાદનોનો ઉપયોગ તુર્ત જ અટકાવી દેવો જોઈએ.
2. પર્યાવરણમાં આવેલ ધરખમ બદલાવને લીધે વૈજ્ઞાનિકો માટે તાપમાનમાં આવનાર બદલાવોનો અંદાજ લગાવવો મુશ્કેલ છે.
3. ભવિષ્યમાં આવનાર પર્યાવરણીય હોનારત માટે અશિમભૂત ઈધણનો વધેલો ઉપયોગ જવાબદાર રહેશે.

જવાબ વિકલ્પો

- (A) માત્ર 1 (B) માત્ર 3
(C) 1 અને 3 બન્ને (D) 2 અને 3 બન્ને

- 7 Which of the following best explains the usage of the phrase brewing a disastrous stew?

- (A) Lack of efforts to curb the greenhouse effect would degrade the environment in the near future
- (B) harmful ultraviolet radiation is slowly destroying the life on earth
- (C) the fraternity of scientists has been opposing the process of Industrialization
- (D) increased discharge of chemicals in the air is resulting in an atmospheric crisis

“વિનાશકારી મિશ્રણ બનાવી રહ્યા છે” એ શબ્દસમૂહનો આપેલ ફકરાના અનુસંધાનમાં મતલબ:

- (A) ગ્રીનહાઉસ ગેસને રોકવાના પ્રયત્નોની ઉણપને લીધે ભવિષ્યમાં પર્યાવરણ બગડશે.
- (B) અલ્ટ્રાવાયોલેટ વિકિરણોને લીધે પૃથ્વી પર જીવન ધીરે ધીરે નષ્ટ થઈ રહ્યું છે.
- (C) વૈજ્ઞાનિકોનો એક સમુદાય ઔદ્યોગિકરણની વિરુદ્ધ છે.
- (D) હવામાં રસાયણોનો વધી રહેલો આવ એ વાતાવરણમાં કટોકટી લાવી રહ્યો છે.

8 Author says the complete destruction of ozone layer will make the earth barren rock because

- (A) ozone layer is the only protection for the life on earth
- (B) it protects us against the deadly ultraviolet radiation
- (C) none of the above
- (D) both (A) and (B)

ઓઝોન આવરણના પતનથી સંપૂર્ણ પૃથ્વી એક ઉજ્જડ પથ્થર બની જશે કારણ કે:

- (A) કેવળ ઓઝોન આવરણ જ પૃથ્વી પર જીવન નું રક્ષણ કરે છે.
- (B) આ આવરણ આપણને જીવલેણ અલ્ટ્રાવાયોલેટ વિકિરણોથી બચાવે છે.
- (C) ઉપરોક્ત પૈકી એકેય નહીં
- (D) (A) અને (B) બન્ને

9 The tone of the author in this passage is:

- (A) provocative
- (B) sarcastic
- (C) futuristic
- (D) informative

આ ફકરામાં લેખકનું વલણ કેવું છે?

- (A) ઉત્તેજક
- (B) કટાક્ષપૂર્ણ
- (C) ભવિષ્યવાદી
- (D) માહિતીપ્રદ

10 Which of the following can be inferred from the passage?

- (A) The process of industrialization is the only cause for global warming
- (B) Without ozone layer, there cannot be any life on earth
- (C) Earth's temperature will rise each year
- (D) Changing global climate can produce positive results

આપેલ ફકરા પરથી શું અનુમાન લગાવી શકાય?

- (A) ઔદ્યોગીકરણ એ ગ્લોબલ વોર્મિંગનું એકમાત્ર કારણ છે.
- (B) ઓઝોન લેયર વિના ધરતી પર કોઈ જીવન સંભવિત નથી.
- (C) પૃથ્વીનું તાપમાન દર વરસે વધવાનું છે.
- (D) બદલાતી વૈશ્વિક આબોહવાથી સારા પરિણામો મળી શકે એમ છે.

Read the following passage carefully and answer the question no. 11-12 given below :

Early mariners knew and made use of the change in winds that preceded the monsoon. Strong winds blowing across the Arabian Sea are a prerequisite for transporting the vast amounts of moisture needed to sustain the huge belt of thick cloud that provide rain over India. A sufficient level of wind blowing from the west is among the criteria that the India meteorological department uses to determine monsoon onset. This year, although the winds meet those requirement there is nevertheless concern that they have not grown powerful enough, and that the progress of the monsoon northwards might falter. The rains typically ought to reach much of the country by the end of June and the remaining part by mid July. However, the waters in the central and eastern parts of the equatorial Pacific Ocean have been warming rapidly and showing signs of turning of in to a full-fledged El-Nino. A developing El-Nino phenomenon can take its toll as the monsoon establishes itself over the country. If that happens this year, rain fall in June, which is essential for several crops could be affected. A bigger worry concerns the larger impact that an El-Nino might have on monsoon. While most of the severe droughts over India have occurred when there was an El-Nino, only about 43% of the El-Nino events that occurred over the last 126 yrs resulted in deficient monsoon rains.

નીચેનો ફકરો કાળજીપૂર્વક વાંચી પ્રશ્ન નં. 11-12ના ઉત્તરો આપો :

પ્રાચીન સમયથી નાવિકો ચોમાસાના પહેલાના પવનમાં થતા ફેરફારોને જાણતા હતા અને તેનો ઉપયોગ કરતા હતા. ભારતમાં વર્ષા લાવવા માટેના ઘટ્ટ વાદળોના પટ્ટા માટેની ખૂબ જ અધિક માત્રામાં ભેજની જરૂરિયાત અરબી સમુદ્ર પર ફૂંકતા પવનો પૂરી પાડે છે. પશ્ચિમ દિશા તરફથી ફૂંકતા પવનોનું પર્યાપ્ત સ્તર, એ માપદંડોમાંથી એક છે જેનો ભારતીય હવામાન ખાતું ભારતમાં વર્ષાના આગમન માટેનું એક પરીમાણ ગણે છે. આ વર્ષે, જો કે પવનો તે જરૂરિયાત પૂરી કરે છે, તેમ છતાં એક ચિંતા એ છે આ પવનો ખૂબ જ મજબૂત બન્યા નથી અને ચોમાસાની ઉત્તર તરફની પ્રગતિ નબળી બની શકે છે. મોટે ભાગે દેશના ઘણા ખરા ભાગમાં જૂન અંત સુધી ચોમાસું પહોંચી જાય છે અને મધ્ય જુલાઈ સુધી બાકીના ભાગોમાં પહોંચી જાય છે. જો કે, મધ્ય અને પૂર્વીય વિષૂવૃત્તીય પેસિફિક મહાસાગરનું પાણી ઝડપથી ગરમ થઈ રહ્યું છે અને પૂર્ણ પ્રકારના એલ-નીનો જેવા એંધાણ દર્શાવી રહ્યું છે. વિકસિત થતો એલ-નીનો પ્રભાવ હાનિ પહોંચાડી શકે છે, કારણ કે ચોમાસું દેશમાં આવી ચુક્યું છે. જો આ વર્ષે આવું થાય તો જૂનમાં થતો વરસાદ કે જે વિવિધ પાકો માટે ખૂબ જરૂરી છે તેમને અસર પહોંચી શકે છે. સૌથી મોટી ચિંતા એ છે કે એલ-નીનોનો સૌથી મોટો પ્રભાવ ચોમાસા પર પડશે. ભારતમાં મોટાભાગના દુષ્કાળ ત્યારે થયા છે, જ્યારે એલ-નીનોનો પ્રભાવ થાય છે. છેલ્લા 126 વર્ષમાં પેદા થયેલા એલ-નીનો પ્રભાવમાંથી લગભગ 43%ના કારણે ચોમાસામાં થનાર વર્ષામાં અછત અનુભવાય છે.

11 Consider the following statement

1. The clouds that bring monsoon to India originate only over the Arabian Sea.
2. Early mariners were able to influence winds and thus make sailing easier.

Which of the above conclusion is/are correct?

- (A) Only 1 (B) Only 2
(C) Both 1 and 2 (D) Neither 1 or 2

નીચેના વિધાનો ચકાસો :

1. ભારતમાં ચોમાસું લાવતા વાદળો એ ફક્ત અરબી સમુદ્ર પર ઉદભવે છે.
2. પ્રારંભિક નાવિકો પવનો ઉપર પ્રભાવ પાડીને તેમનો પ્રવાસ સરળ બનાવતા.

ઉપરોક્ત કયા સાચા છે?

- (A) ફક્ત 1 (B) ફક્ત 2
(C) 1 અને 2 બંને (D) ઉપરોક્ત એકપણ નહિ

12 Which of the following statements about El-Nino is correct according to the passage?

- (A) It is related to the temperature of waters in the Arabian sea.
(B) It affects rainfall only during the month of June.
(C) It causes severe floods in coastal area.
(D) It can affect the production of several crops.

ફક્ત મુજબ એલ-નીનોને લગતા નીચેનામાંથી કયું વિધાન સાચું છે?

- (A) તે અરબી સમુદ્રમાંના પાણીના તાપમાનને લગતું છે.
(B) તે ફક્ત જૂન મહિનાના વરસાદને જ અસર કરે છે.
(C) તે તટીય પ્રદેશોમાં પૂરનું કારણ બને છે.
(D) તે ઘણા પાકોના ઉત્પાદનને અસર પહોંચાડી શકે છે.

Read the following passage carefully and answer the question no. 13-15 given below :

Women constitute nearly half of the population of the country, but gender disparities in socio-cultural sphere have adversely affected their development. These disparities can be seen in important social development indicators such as health, nutrition, literacy, educational attainments, skill levels, occupational stats and so on. The same is also reflected in the situation of the adolescent girl. Adolescent girls in the 10-19 age group constitute almost 47% of the total population of the adolescent in the country. But their development is fraught with varied problems. Almost 50% of women marry before the legal age (of 18) versus 10% of young men. Overall, 1 in 6 women in the age group of 15-19 has began childbearing. Early child bearing is most common in rural areas and among women with no education.

નીચેનો ફકરો કાળજીપૂર્વક વાંચી પ્રશ્ન નં. 13-15ના ઉત્તરો આપો :

દેશની લગભગ અડધી વસ્તી સ્ત્રીઓની છે, પરંતુ સામાજિક-સાંસ્કૃતિક પરિપ્રેક્ષ્યમાં લિંગભેદના લીધે તેઓના વિકાસને ખૂબ ખરાબ અસર થઈ છે. સ્વાસ્થ્ય, પોષણ, શિક્ષા, શૈક્ષણિક ક્ષમતાઓ, પ્રવીણતાનું સ્તર, વ્યવસાયિક દરજ્જાઓ જેવા મહત્વના સામાજિક વિકાસ પરિમાણોથી આ ભેદભાવના અંદાજો આવે છે. આ જ દ્રશ્ય કિશોરીઓની સ્થિતિમાં પણ જોવા મળે છે. 10-19 વર્ષના જૂથની કિશોરીઓએ દેશના કિશોર વર્ગમાં 47% હિસ્સેદારી ધરાવે છે. પરંતુ તેમનો વિકાસ એ ઘણી બધી મુશ્કેલીઓમાં જકડાયેલો છે. લગભગ 50% જેટલી સ્ત્રીઓ 18 વર્ષની કાનૂની ઉંમર કરતા પહેલા જ પરણી જાય છે. તેની સામે કિશોરોમાંના ફક્ત 10 ટકા જેટલા જ કાનૂની વય કરતા વહેલા પરણે છે. 15-19ના વય જૂથમાં 6માંથી 1 સ્ત્રી શિશુ ધારણ કરી લે છે. નાની ઉંમરમાં માતા બનવાની ઘટનાએ ગ્રામીણ વિસ્તાર તેમજ અશિક્ષિત સ્ત્રીઓમાં જોવા મળે છે.

13 What does the author mean by “gender disparities”?

1. Role of different genders in socio-cultural sphere.
2. Different gender stereotypes.

Select the correct answer using codes given below

- | | |
|------------------|--------------------|
| (A) Only 1 | (B) Only 2 |
| (C) Both 1 and 2 | (D) Neither 1 or 2 |

લિંગ અસમતુલાનો લેખકના માટે શું મતલબ થાય છે?

1. સામાજિક-સાંસ્કૃતિક પરિપ્રેક્ષ્યમાં જુદી જુદી લિંગનો જુદો જુદો ભાગ ભજવવો.
2. અલગ-અલગ લિંગ આધારિત ધારણાઓ.

નીચે આપેલા કોડ પરથી જવાબ શોધો

- | | |
|------------------|----------------------|
| (A) ફક્ત 1 | (B) ફક્ત 2 |
| (C) 1 અને 2 બંને | (D) ઉપરોક્ત એકપણ નહિ |

14 With reference to the passage consider the following statements

1. Social development indicators reflect actual trends prevalent in the society
2. The gender which forms a majority of the population should be the focus of the development.

Which of the assumption given above is/are valid?

- (A) Only 1 (B) Only 2
(C) Both 1 and 2 (D) Neither 1 or 2

ફકરાને અનુલક્ષીને નીચેના વિધાનો ચકાસો :

1. સામાજિક વિકાસના માપદંડો સમાજમાં પ્રવર્તતી વાસ્તવિકતા રજૂ કરે છે.
2. વિકાસનો ધ્યેય એ સમાજમાં રહેતા બહુમતી લિંગ ઉપર હોવો જોઈએ.

ઉપરોક્ત કઈ ધારણા સાચી છે?

- (A) ફક્ત 1 (B) ફક્ત 2
(C) 1 અને 2 બંને (D) ઉપરોક્ત એકપણ નહિ

15 With reference to the passage consider the following statements

1. Women at all ages face discrimination due to their gender.
2. The legal age for men to get married is 18 yrs.

Which of the inferences given above is /are correct

- (A) Only 1 (B) Only 2
(C) Both 1 and 2 (D) Neither 1 or 2

ફકરાને લગતા નીચેના વિધાનો ચકાસો :

1. સ્ત્રીઓ તેમની જાતિના લીધે દરેક વયમાં શોષણનો સામનો કરે છે.
2. પુરુષો માટે લગ્ન કરવાની કાયદાકીય ઉંમર 18 વર્ષ છે.

નીચેનામાંથી કયું અનુમાન/ક્યા અનુમાનો સાચા છે?

- (A) ફક્ત 1 (B) ફક્ત 2
(C) 1 અને 2 બંને (D) ઉપરોક્ત એકપણ નહિ

Read the following passage carefully and answer the question no. 16-17 given below :

The remedy for many of the central failures of Indian society is closely linked to broadening the force and range of political arguments and social demands. The “tryst with destiny” is thus partly an invitation to further engagement and encounter. What Nehru hoped would happen automatically with the independence of India may continue to be neglected unless it is demanded with an insistence that makes it politically critical in a democratic system. It is not enough to continue to have systemic elections, to safeguard political liberties and civil rights, to guarantee free speech and open media. Nor is it adequate to eliminate famine, or to reduce the lead of china in longevity and survival. A more vigorous and vocal use of democratic participation can do much in India that it has already achieved.

નીચેનો ફકરો કાળજીપૂર્વક વાંચી પ્રશ્ન નં. 16-17ના ઉત્તરો આપો :

ભારતીય સમાજની મુખ્ય નિષ્ફળતાઓનો ઈલાજ, રાજકીય દલીલો અને સામાજિક માંગોના બળ અને વિસ્તારને વિસ્તૃત કરવા સાથે નજીકથી સંબંધિત છે. આમ, “નિયતિ સાથેનો વાયદો” એ વચનબદ્ધતા અને સંઘર્ષને આંશિક આમંત્રણ આપવા જેવું છે. નહેરુ એ જે વિચાર્યું હતું તે આઝાદી બાદ આપમેળે મળી શકતું હતું. જ્યાં સુધી લોકશાહી પદ્ધતિમાં આવા ફેરફારોનો રાજકીય દ્રષ્ટીએ મહત્વનું માની તે માટે આગ્રહ રાખવામાં આવે નહિ તો તે નિરર્થક છે. શિસ્તબદ્ધ ચૂંટણી થવી, રાજકીય આઝાદીનો બચાવ કરવો, નાગરિક અધિકારો આપવા, સમાચારોની સ્વતંત્રતા અને વાણી સ્વતંત્રતા પ્રદાન કરવી, આ બધું પુરતું નથી. લોકશાહીની ઢબે ભાગીદારીનો ખૂબ જોમ અને અભિવ્યક્તિ સાથે ઉપયોગ કરીને આપણે અત્યાર સુધી ભારતે જે પ્રાપ્ત કર્યું છે તેના કરતા પણ વધુ પ્રાપ્ત કરી શકીશું.

16 What does the author imply by broadening the force and range of political arguments and social demands?

- (A) A more vigorous and vocal use of democratic participation
- (B) social and political invitation to further engagement and encounter
- (C) To continue to have systemic elections to safeguard political liberties and civil rights to guarantee free speech and open media.
- (D) The statements (A) and (B) are correct in this context.

રાજકીય દલીલો અને સામાજિક માંગોના વિસ્તારને વિસ્તૃત કરવાના લેખકના વલણ પરથી કહી શકાય છે?

- (A) લોકશાહીની ભાગીદારીનો વધુ જોમ અને જુસ્સા સાથે ઉપયોગ કરવો.
- (B) સામાજિક અને રાજકીય આમંત્રણ દ્વારા વચનબધ્ધતા અને સંઘર્ષ વધારવો.
- (C) શિસ્તબદ્ધ ચૂંટણી, રાજકીય આઝાદીનો બચાવ કરવો, નાગરિક અધિકારો આપવા, સમાચારોની સ્વતંત્રતા અને વાણી સ્વતંત્રતા પ્રદાન કરવી તે ચાલુ રહેવું જોઈએ.
- (D) (A) અને (B) બંને વાક્યો આ સંદર્ભમાં સાચા છે.

17 Consider the following Assumption.

1. Author disagrees with Nehru in respect of broadening the force and range of political arguments and social demand.
2. In a democratic system demand of participation is necessary for social changes.

With reference to the above passage which of the assumption is/are valid?

- (A) Only 1
- (B) Only 2
- (C) Both 1 and 2
- (D) Neither 1 nor 2

નીચેની ધારણાને ચકાસો

1. લેખક એ રાજકીય દલીલો અને સામાજિક માંગોના વિસ્તારને વિસ્તૃત કરવાના વિષય પર નેહરુ સાથે અસંમત છે.
2. લોકશાહીમાં સામાજિક બંદલાવ લાવવા માટે ભાગીદારી માટેની માંગ ખૂબ જ જરૂરી છે.

ઉપરોક્ત પૈકી કઈ ધારણાઓ સાચી છે?

- (A) ફક્ત 1
- (B) ફક્ત 2
- (C) 1 અને 2 બંને
- (D) ઉપરોક્ત એક પણ નહિ

Read the following passage carefully and answer the question no. 18-19 given below :

In 2009, Tamilnadu enacted a law to regulate Jalikattu. However, despite its stringent provisions, animal rights activists and the animal welfare board of India continued to see it as a bull-baiting exercise that perpetuates cruelty. Reports from the field apprised the Supreme Court about deaths and injuries on and off the arena and the different forms of cruelty the animals were subjected to in their training. Organizers and bull owners often argue that they keep the prized animals comfortable and well-fed. However, it cannot be denied that on the day of the event, the same bulls are kept for hours without food or water and are dragged in to the narrow passage through which they entered the arena in a terrified or angry state.

નીચેનો ફકરો કાળજીપૂર્વક વાંચી પ્રશ્ન નં. 18-19ના ઉત્તરો આપો :

જલીકત્તુંનું નિયમન કરવા માટે તામિલનાડુએ 2009માં કાયદો બનાવ્યો હતો. જો કે તેના કઠોર નિયમો હોવા છતાં, પશુ અધિકાર કાર્યકરો અને ભારતીય પશુ કલ્યાણ બોર્ડે તેને આખલાઓના ઉત્પીડન તરીકે જોયા છે જે એક ક્રુતાભર્યું કાર્ય છે. ફિલ્ડમાંથી આવતી રિપોર્ટમાં સુપ્રીમ કોર્ટને મેદાનમાં ક્યારેક થતી મૃત્યુ અને ઈજાઓ વિશે અને પ્રશિક્ષણ દરમિયાન પશુને આપવામાં આવતી યાતનાઓ વિશે જાણ કરવામાં આવી. આયોજકો અને આખલાના માલિકો ઘણીવાર એ તર્ક આપે છે કે તેઓ બહુમૂલ્ય પ્રાણીઓને આરામદાયક અને પોષિત રાખે છે તથા તેમને સારી રીતે ભોજન કરાવે છે. જો કે, એ વાતને નકારી ન શકાય કે પ્રતિયોગિતાના દિવસે એ જ આખલાઓને ઘણા કલાકો સુધી ભોજન અને પાણી વગર રાખવામાં આવે છે અને સાંકડામાર્ગ તરફ ખેંચવામાં આવે છે જેથી તેઓ મેદાનમાં આતંકિત અને ગુસ્સાવાળી સ્થિતિમાં પ્રવેશ કરે છે.

18 Which of the following observations emerges from the passages ?

- (A) People of Tamilnadu don't care about animals.
- (B) People of Tamilnadu care about animals.
- (C) People of Tamilnadu enjoy inflicting cruelty on animals.
- (D) The bulls participating in Jalikattu are trained to be a part of the event.

નીચેનામાંથી કયું અવલોકન ફકરામાંથી તારવી શકાય છે ?

- (A) તમિલનાડુના લોકો પશુઓની ચિંતા નથી કરતા.
- (B) તમિલનાડુના લોકો પશુઓની ચિંતા કરે છે.
- (C) તમિલનાડુના લોકોને પશુઓ પર ક્રુરતા કરવામાં મજા આવે છે.
- (D) જલીકત્તુંમાં ભાગ લેનાર આખલાઓને પ્રતિયોગિતા માટે પ્રશિક્ષિત કરવામાં આવે છે.

19 Which of the following is the view of the organizers of Jalikattu?

- (A) The bulls are fed with intoxicating substances for the event.
- (B) The bulls are treated well and are kept comfortably.
- (C) The bulls are kept hungry only prior to the event.
- (D) The reports about deaths and injury is related to event are questionable.

નીચેનામાંથી કયો જલીકત્તુંના વ્યવસ્થાપકોનો મત છે?

- (A) પ્રતિયોગિતા માટે આખલાઓને નશાકારક પદાર્થ આપવામાં આવે છે.
- (B) આખલાઓ સાથે સારું વર્તન કરવામાં આવે અને તેમને આરામદાયક રીતે રાખવામાં આવે.
- (C) આખલાઓને ફક્ત પ્રતિયોગિતાની પહેલા જ ભૂખ્યા રાખવામાં આવે.
- (D) મૃત્યુ અને ઈજાને લગતા પ્રતિયોગિતાથી સંબંધિત રિપોર્ટ શંકાસ્પદ છે.

Directions for the question no. 20 to 22 :

Eight friends Savita, Radhika, Amita, Nisha, Rani, Jyoti, Mita and Anjali are sitting around a circle, facing the centre. Savita is second to the right of Anjali, but is not a neighbour of Amita. Nisha is third to the left of Amita, but is not next to Savita. Jyoti is second to the right of Rani, and third to the left of Mita.

પ્રશ્ન નં. 20 થી 22 માટેના નિર્દેશો :

આઠ બહેનપણીઓ સવિતા, રાધિકા, અમિતા, નિશા, રાની, જ્યોતિ, મીતા અને અંજલિ વર્તુળાકારે કેન્દ્ર તરફ મુખ રાખીને બેઠા છે. સવિતા એ અંજલિના જમણી તરફ બીજા નંબરે બેઠી છે, પણ તે અમિતાની પડોશણ નથી. નિશા એ અમિતાના ડાબેથી ત્રીજી છે, પણ સવિતાની તરત પછી નથી. જ્યોતિ એ રાનીના જમણી બાજુથી બીજી અને મીતાના ડાબેથી ત્રીજી છે.

20 Who is second to the left of Anjali ?

- (A) Radhika (B) Rani
(C) Amita (D) Mita

અંજલિના ડાબેથી બીજું કોણ બેઠું છે ?

- (A) રાધિકા (B) રાની
(C) અમિતા (D) મીતા

21 Who is immediate right of Nisha ?

- (A) Jyoti (B) Radhika
(C) Mita (D) Jyoti or Radhika

નિશાની તરત જમણી બાજુ કોણ છે ?

- (A) જ્યોતિ (B) રાધિકા
(C) મીતા (D) જ્યોતિ અથવા રાધિકા

22 Which of the following is the correct position of Rani ?

- (A) To the immediate right of Anjali
(B) To the immediate left of Anjali
(C) To the immediate right of Savita
(D) Next to Jyoti

નીચે પૈકી રાનીની સાચી બેઠક કઈ ?

- (A) અંજલિની તરત જમણી બાજુ
(B) અંજલિની તરત ડાબી બાજુ
(C) સવિતાની તરત જમણી બાજુ
(D) જ્યોતિની તરત બાજુમાં

- 23 A walks 4 km towards north. He turns to right and covers a distance of 12 km and now he turns his left and covers a distance of 12 km. Find the distance between his starting point and end point.

- (A) 18.5 km
(B) 21.5 km
(C) 20 km
(D) 23 km

A ઉત્તર તરફ 4 કિ.મી. ચાલે છે. ત્યારબાદ તે જમણી બાજુ વળે છે અને 12 કિ.મી.નું અંતર કાપે છે અને હવે તે ડાબી બાજુ વળે છે અને 12 કિ.મી.નું અંતર કાપે છે. તેના શરુઆત અને અંતિમ બિંદુઓ વચ્ચેનું અંતર કેટલું હશે?

- (A) 18.5 કિમી
(B) 21.5 કિમી
(C) 20 કિમી
(D) 23 કિમી

- 24 If Lekha says, "Nisha's father Kamal is the only son of my father-in-law Rakesh." Then how Bina, who is sister of Nisha, related to Rakesh ?

- (A) Daughter
(B) Wife
(C) Daughter in law
(D) Grand daughter

લેખા એ કહ્યું "નિશાના પિતાજી કમલ, એ મારા સસરા રાકેશના એકમાત્ર પુત્ર છે." તો બીના, જે નિશાની બહેન છે, તે રાકેશ સાથે કયા સંબંધથી જોડાયેલી છે?

- (A) પુત્રી
(B) પત્ની
(C) વહુ
(D) પૌત્રી

Directions for questions 25 to 28 :

Six delegates P, Q, R, S, T, U from six countries UK, USA, CHINA, FRANCE, RUSSIA, INDIA are sitting at a circular table facing the centre. The distance between any two adjacent delegates is same. It is also known that

1. T is sitting to the immediate left of Indian delegate S.
2. Delegate from UK is sitting next to the delegate from USA and CHINA.
3. Delegate from USA and FRECH delegate R are sitting opposite to each other.
4. INDIAN delegate is not sitting opposite to the delegate from UK.
5. Q is not an immediate neighbor of R and doesn't belong to USA.

પ્રશ્ન નં. 25 થી 28 માટે સૂચના :

6 પ્રતિનિધિઓ P, Q, R, S, T, U જે 6 દેશો યુ.કે., યુ.એસ.એ., ચીન, ફ્રાન્સ, રશિયા અને ભારત એક ગોળાકાર ટેબલ પર કેન્દ્ર તરફ મુખ રાખીને બેઠા છે. કોઈ પણ બે સાથે બેઠેલા પ્રતિનિધિઓ વચ્ચેનું અંતર સમાન છે અને એ જાણકારી છે કે

1. T એ ભારતીય પ્રતિનિધિ S ની એકદમ ડાબી બાજુ એ બેઠો છે.
2. યુ.કે. નો પ્રતિનિધિ એ યુ.એસ.એ. અને ચીનના પ્રતિનિધિની બાજુમાં બેઠો છે.
3. યુ.એસ.એ. નો પ્રતિનિધિ અને ફ્રાન્સનો પ્રતિનિધિ R એકબીજાની સામસામે બેઠા છે.
4. ભારતનો પ્રતિનિધિ યુ.કે.ના પ્રતિનિધિની સામે નથી બેઠો.
5. Q એ R ની પડોસમાં નથી બેઠો અને યુ.એસ.એ.નો પ્રતિનિધિ પણ નથી.

25 Delegate from which of the following countries is sitting opposite to the delegate from INDIA?

- | | |
|------------|-----------------------|
| (A) CHINA | (B) UK |
| (C) RUSSIA | (D) Either (A) or (B) |

કયા દેશનો પ્રતિનિધિ ભારતના પ્રતિનિધિની સામે બેઠો છે?

- | | |
|-----------|------------------|
| (A) ચીન | (B) યુ.કે. |
| (C) રશિયા | (D) (A) અથવા (B) |

26 Delegates from which of the following countries are sitting next to R?

- (A) USA and CHINA (B) UK and RUSSIA
(C) RUSSIA and CHINA (D) INDIA and RUSSIA

R ની બાજુમાં કયા દેશના પ્રતિનિધિઓ બેઠા છે?

- (A) યુ.એસ.એ. અને ચીન (B) યુ.કે. અને રશિયા
(C) રશિયા અને ચીન (D) ભારત અને રશિયા

27 Who among the following delegates from UK?

- (A) P (B) Q
(C) T (D) U

નીચેનામાંથી યુ.કે. નો પ્રતિનિધિ કોણ છે?

- (A) P (B) Q
(C) T (D) U

28 If U is from CHINA, then who among the following delegates are the immediate neighbor of S?

- (A) P and Q (B) T and R
(C) Q and R (D) T and P

જો U ચીનનો પ્રતિનિધિ હોય તો નીચે આપેલા પ્રતિનિધિઓ માંથી S ના તરતના પડોશીઓ કોણ છે?

- (A) P અને Q (B) T અને R
(C) Q અને R (D) T અને P

- 29 In the following alphabet series, how many times three later L, S and W appear together in such a way that W comes in the middle and, L and S get arranged on either side?

M L W S A L S W N B Q W S L W P L S N O L W T R W S L

- (A) 2
(B) 3
(C) 4
(D) 1

આપેલી અંગ્રેજી મૂળાક્ષરોની શ્રેણીમાં, કેટલી વાર મૂળાક્ષર L, S અને W સાથે આવે છે એવી રીતે કે જેમાં W હંમેશા વચ્ચે રહે અને L તથા S આજુ બાજુ માં હોય?

M L W S A L S W N B Q W S L W P L S N O L W T R W S L

- (A) 2
(B) 3
(C) 4
(D) 1

- 30 Nayan ranks fifth in the class. Sunil is eighth from the last. If Tina is sixth after Nayan and just in the middle of Nayan and Sunil, then how many students are there in the class?

- (A) 23
(B) 24
(C) 25
(D) 26

નયનનો ક્લાસમાં પાંચમો ક્રમ છે. સુનીલ પાછળથી આઠમા ક્રમે છે. જો ટીના નયન પછી છઠ્ઠા ક્રમે હોય તથા તેનો ક્રમ નયન અને સુનીલની એકદમ મધ્યમાં હોય તો વર્ગમાં કેટલા વિદ્યાર્થીઓ હશે?

- (A) 23
(B) 24
(C) 25
(D) 26

Directions for question 31 and 32 :

In a test in which 120 students appeared, 90 passed in History, 65 passed in sociology and 75 passed in political science. 30 students passed in only one subject and 55 students passed in only two subjects. 5 students passed no subjects. Then

પ્રશ્ન નં. 31 અને 32 માટે સૂચના :

એક પરીક્ષામાં 120 વિદ્યાર્થીઓ બેસે છે, જેમાં 90 ઇતિહાસમાં પાસ થયા, 65 સમાજશાસ્ત્રમાં પાસ થયા અને 75 રાજનીતિશાસ્ત્રમાં પાસ થયા. 30 વિદ્યાર્થીઓ ફક્ત એક વિષયમાં પાસ થયા, જ્યારે 55 વિદ્યાર્થીઓ ફક્ત બે વિષયમાં પાસ થયા અને 5 વિદ્યાર્થીઓ એક પણ વિષયમાં પાસ નથી થયા તો

31 How many students passed in all three subjects?

- (A) 25 (B) 30
(C) 35 (D) Data Insufficient

કેટલા વિદ્યાર્થીઓ ત્રણે વિષયમાં પાસ થયા?

- (A) 25 (B) 30
(C) 35 (D) માહિતી અપૂર્ણ છે

32 How many students passed in at least two subjects ?

- (A) 85 (B) 95
(C) 90 (D) Data Insufficient

કેટલા વિદ્યાર્થીઓ ઓછામાં ઓછા બે વિષયમાં પાસ થયા?

- (A) 85 (B) 95
(C) 90 (D) માહિતી અપૂર્ણ છે

- 33 In a group of males and females, 70% of the persons are males and remaining are females. In this group, 30% of the persons are married. If two seventh of the males are married, total of married females and unmarried male is

- (A) 60 (B) 70
(C) 30 (D) 40

સ્રી અને પુરુષોના એક જૂથમાં, 70% પુરુષો છે અને બાકીની સ્રીઓ છે. આ જૂથમાં 30% વ્યક્તિઓ વિવાહિત છે. જો બે સપ્તમાંશ પુરુષો વિવાહિત હોય તો વિવાહિત સ્રીઓ અને અવિવાહિત પુરુષોની કુલ સંખ્યા કેટલી?

- (A) 60 (B) 70
(C) 30 (D) 40

- 34 Find the missing number.

6	9	15
8	12	20
4	6	?

- (A) 5 (B) 15
(C) 10 (D) 20

6	9	15
8	12	20
4	6	?

ઉપરોક્ત કોષ્ટકમાં આપેલ ખાલી જગ્યામાં કયો અંક આવશે?

- (A) 5 (B) 15
(C) 10 (D) 20

35 In the group of six persons P,Q,R,S,T and U, no two persons are of same age. P is younger than R, and T is older than both S and Q. U is oldest in the group. R is younger than exactly three persons. Who is the second oldest person in the group?

- (A) S
- (B) T
- (C) Q
- (D) Cannot be determined

છ વ્યક્તિઓ P, Q, R, S, T અને U ના એક સમૂહમાં કોઈ પણ બે વ્યક્તિ સમાન આયુના નથી. P એ R કરતા ઓછી આયુનો છે અને T એ S અને Q બંને કરતા મોટો છે. U સમૂહમાં સૌથી મોટો છે. R એ ફક્ત ત્રણ જ વ્યક્તિ કરતા નાનો છે. આ સમૂહમાં બીજા ક્રમનો મોટો વ્યક્તિ કોણ છે?

- (A) S
- (B) T
- (C) Q
- (D) નક્કી ન કરી શકાય

36 Complete the following series: 6, 12, 21, 33, ?

- (A) 38
- (B) 40
- (C) 48
- (D) 45

આ શ્રેણી પૂરી કરો : 6, 12, 21, 33 ?

- (A) 38
- (B) 40
- (C) 48
- (D) 45

Directions for question no. 37 and 38 :

1. P and Q play Football and Hockey.
2. R and S play Badminton and Cricket.
3. Q and R play Cricket and Football.
4. P and S play Hockey and Badminton.

પ્રશ્ન 37 અને 38 ના દિશા નિર્દેશો :

1. P અને Q ફૂટબોલ અને હોકી રમે છે.
2. R અને S બેડમિન્ટન અને ક્રિકેટ રમે છે.
3. Q અને R ક્રિકેટ અને ફૂટબોલ રમે છે.
4. P અને S હોકી અને બેડમિન્ટન રમે છે.

37 One who plays Badminton, Football and Cricket

- (A) P (B) Q
(C) R (D) None

એક જે બેડમિન્ટન, ફૂટબોલ અને ક્રિકેટ ત્રણે રમે છે.

- (A) P (B) Q
(C) R (D) કોઈ નહીં

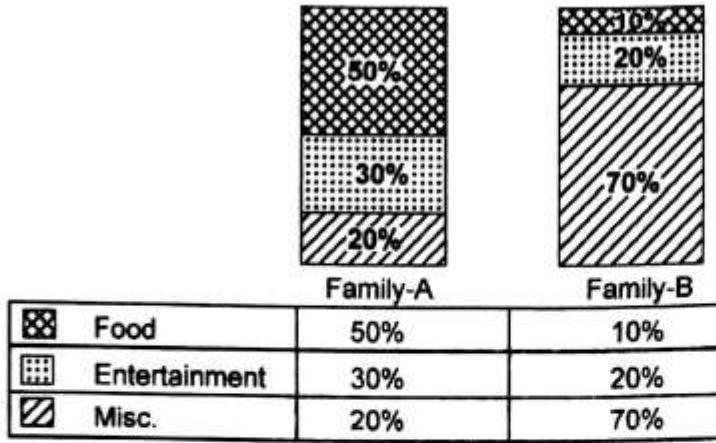
38 One who does not play cricket

- (A) P (B) Q
(C) R (D) Cannot be determined

એક જે ક્રિકેટ રમતો નથી.


- (A) P (B) Q
(C) R (D) નક્કી ના કરી શકાય

- 39 In the following graph, the total monthly income of Family-A is Rs.20,000 and of Family B is Rs.1,00,000.



Which one among the following statement is true?

- (A) Family A spends as much on miscellaneous as family B spends on entertainment.
 (B) The food expense of family B is equal to the total expense of a family B.
 (C) Family A and B spends equally on food.
 (D) Family A and B spends equally on entertainment.



ઉપરોક્ત ગ્રાફમાં, કુટુંબ-Aની માસિક આવક રૂ.20,000 અને કુટુંબ-Bની આવક રૂ. 1,00,000 છે.

નીચે આપેલા વિધાનમાંથી કયું સાચું છે?

- (A) કુટુંબ A જેટલો પરચુરણ ખર્ચ કરે છે એટલો ખર્ચ કુટુંબ B મનોરંજન માટે કરે છે.
 (B) કુટુંબ B નો ખાદ્યાન્ન ખર્ચ કુટુંબ A ના કુલ ખર્ચ જેટલો છે.
 (C) કુટુંબ A અને B ખાદ્યાન્ન પર સમાન ખર્ચ કરે છે.
 (D) કુટુંબ A અને B મનોરંજન પર સમાન ખર્ચ કરે છે.

40 A pipe can fill the tank in 5 hrs while another pipe can empty the same tank in 6 hrs. if both the pipes are open simultaneously, how much time will be taken to fill the tank?

- (A) 15 hrs (B) 20 hrs
(C) 30 hrs (D) 32 hrs

એક પાઈપ ટાંકી ભરવા માટે 5 કલાકનો સમય લે છે, જ્યારે બીજો પાઈપ એ જ ટાંકી ખાલી કરવા માટે 6 કલાકનો સમય લે છે. જો બન્ને સાથે ચાલુ કરવામાં આવે તો ટાંકી કેટલા સમયમાં ભરાય જશે?

- (A) 15 કલાક (B) 20 કલાક
(C) 30 કલાક (D) 32 કલાક

41 By selling an article at Rs.320, a man loses 20 %. If he would sell it at Rs.440, his gain percentage is

- (A) 10 (B) 20
(C) 15 (D) 25

એક વસ્તુને 320 રૂપિયામાં વેચતા વ્યક્તિને 20% ની ખોટ જાય છે. જો તે એ જ વસ્તુને 440 રૂપિયામાં વેચે તો તેને કેટલા ટકા નફો થશે?

- (A) 10 (B) 20
(C) 15 (D) 25

- 42 Six bells tolling together and toll at intervals of 2, 4, 6, 8, 10, 12 seconds respectively. In 30 minutes, how many times do the toll together (excluding one at start)?

- (A) 4 (B) 10
(C) 15 (D) 16

છ બેલ એક સાથે વગાડવામાં આવે છે અને ક્રમશઃ 2, 4, 6, 8, 10, 12 સેકન્ડના અંતરે વાગે છે, તો 30 મિનીટમાં કુલ કેટલી વાર બધા બેલ સાથે વાગશે ? (શરૂઆતના પ્રથમને બાકાત કરતા)

- (A) 4 (B) 10
(C) 15 (D) 16

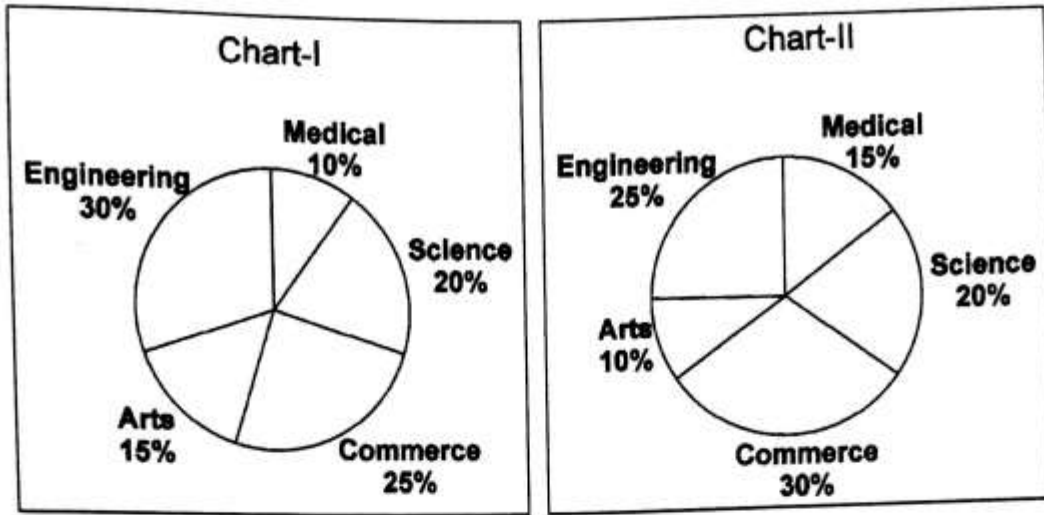
- 43 If the shopkeeper increased the price of potato by 20% and subsequently 40%, what is the final price per kilogram, if the original price was Rs. 25 per kilogram?

- (A) 42 (B) 40
(C) 35 (D) 45

જો દુકાનદાર બટાકાનો ભાવ 20% વધારે અને ફરી 40% વધારે તો બટાકાનો કિલોગ્રામ દીઠ અંતિમ ભાવ શું હશે, જો તેનો મૂળ ભાવ 25 રૂ. કિલોગ્રામ હોય?

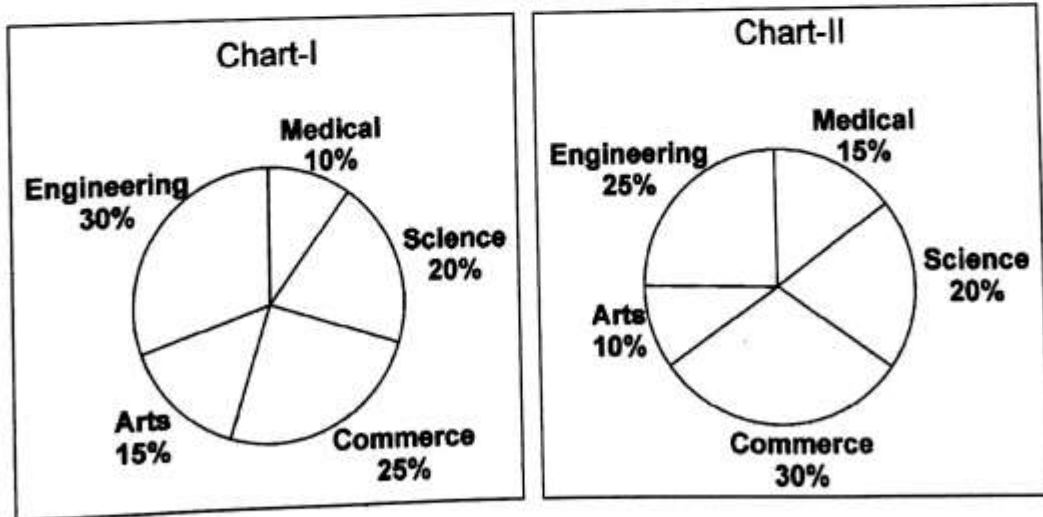
- (A) 42 (B) 40
(C) 35 (D) 45

Direction for the Question No. 44 to 47 :



15000 students applied for admission in a college in the year 2014. Pie chart 1 shows the percentage distribution of the number of students who applied for the admission in different streams in 2014. Pie charts 2 shows the percentage distribution of the numbers of students who got the admission in different streams in 2014. It is also known that a student can apply for admission in only one stream and 8000 students got the admission in the year 2014.

પ્રશ્ન 44 થી 47 ના દિશા નિર્દેશો :



વર્ષ 2014માં 15000 વિદ્યાર્થીઓ કોલેજમાં પ્રવેશ લેવા અરજી કરે છે. ચાર્ટ 1 વર્ષ 2014 માં વિવિધ શાખાઓમાં પ્રવેશ લેવા માટે અરજી કરેલ વિદ્યાર્થીઓની સંખ્યાનું ટકામાં વિતરણ બતાવે છે. ચાર્ટ 2 વર્ષ 2014માં વિવિધ શાખાઓમાં વિદ્યાર્થીઓને મળેલ પ્રવેશના ટકા બતાવે છે. કોઈ પણ વિદ્યાર્થી ફક્ત એક જ શાખામાં પ્રવેશ માટે અરજી કરી શકે છે અને 8000 વિદ્યાર્થીઓને વર્ષ 2014માં પ્રવેશ મળ્યો છે.

44 What is the ratio of the total number of students who applied for engineering and medical streams to the total number of students who got admission in engineering and medical stream?

- (A) 2:1 (B) 15:8
(C) 5:3 (D) 7:4

એન્જીનીયરીંગ અને મેડીકલમાં અરજી કરેલ કુલ વિદ્યાર્થીઓના સાપેક્ષ એન્જીનીયરીંગ અને મેડીકલમાં પ્રવેશ મેળવેલ કુલ વિદ્યાર્થીઓનો ગુણોત્તર કેટલો છે?

- (A) 2:1 (B) 15:8
(C) 5:3 (D) 7:4

45 What is the difference between the number of students who applied for commerce stream and the number of students who applied for science stream?

- (A) 250 (B) 500
(C) 1250 (D) 750

વાણિજ્ય શાખામાં અરજી કરેલા વિદ્યાર્થીઓની સંખ્યા અને વિજ્ઞાન શાખામાં અરજી કરેલ વિદ્યાર્થીઓની સંખ્યામાં તફાવત કેટલો છે?

- (A) 250 (B) 500
(C) 1250 (D) 750

46 What is the total number of students who applied for admission in science, commerce and arts but did not get the admission?

- (A) 4200 (B) 4800
(C) 3800 (D) 4400

એવા વિદ્યાર્થીઓની સંખ્યા કેટલી છે જેમને વિજ્ઞાન, વાણિજ્ય અને આર્ટ્સમાં અરજી કરી પરંતુ તેમને પ્રવેશ ન મળ્યો?

- (A) 4200 (B) 4800
(C) 3800 (D) 4400

47 For which of the following streams, is the number of students who got the admission as a percentage of the number of students who applied for admission the highest?

- (A) Science (B) Medical
(C) Commerce (D) Arts

નીચે આપેલ કઈ શાખામાં અરજી કરવાની સાપેક્ષમાં પ્રવેશ મેળવનાર વિદ્યાર્થીઓની ટકાવારી ઉચ્ચતમ છે?

- (A) વિજ્ઞાન (B) મેડીકલ
(C) વાણિજ્ય (D) આર્ટ્સ

48 The cost of 2 tables and 4 chairs is 3600, while 1 table and 8 chairs cost the same. The cost of 12 chairs is:

- (A) 3600 (B) 4000
(C) 3200 (D) 3000

બે ટેબલ અને ચાર ખુરશીનો ભાવ 3600 રૂપિયા છે, જ્યારે એક ટેબલ અને આઠ ખુરશીનો ભાવ સરખો જ છે, તો બાર ખુરશીઓનો ભાવ કેટલો હશે?

- (A) 3600 (B) 4000
(C) 3200 (D) 3000

49 A person covers the certain distance by car at the speed of 30 km/hr and comes back at the speed of 60 km/hr. What is his average speed during his travel?

- (A) 38 km/hr (B) 40 km/hr
(C) 37 km/hr (D) 45 km/hr

એક વ્યક્તિ કાર દ્વારા અમુક અંતર 30 કિમી/કલાકની ઝડપે અને પાછા ફરતી વખતે 60 કિમી/કલાકની ઝડપે કાપે છે, તો આ આખી મુસાફરી દરમિયાન તેની સરેરાશ ઝડપ કેટલી?

- (A) 38 કિમી/કલાક (B) 40 કિમી/કલાક
(C) 37 કિમી/કલાક (D) 45 કિમી/કલાક

50 3 yrs ago, the average of the family of 5 members was 17 yrs. Even after the birth of a child, the average remains same today. What is the age of the child?

- (A) 1 yr (B) 2 yrs
(C) 3 yrs (D) None of the above.

3 વર્ષ પહેલાં 5 વ્યક્તિઓના એક કુટુંબની સરેરાશ ઉંમર 17 વર્ષ હતી. એક બાળકના જન્મ થવા છતાં પણ આ કુટુંબની સરેરાશ ઉંમર એટલી જ છે, તો બાળકની ઉંમર કેટલી હશે?

- (A) 1 વર્ષ (B) 2 વર્ષ
(C) 3 વર્ષ (D) ઉપરોક્તમાંથી એકપણ નહિ

51 A student has to score 40% marks to get through. If he scores 40 marks and fails by 40 marks, then find the maximum marks set for the examination.

- (A) 250 (B) 300
(C) 150 (D) 200

એક વિદ્યાર્થીને પાસ થવા માટે 40% ગુણ જોઈએ. તે 40 ગુણ મેળવે છે અને 40 ગુણથી નાપાસ થાય છે, તો આ પરીક્ષામાં કુલ ગુણ કેટલા છે?

- (A) 250 (B) 300
(C) 150 (D) 200

52 Kalpesh spends 40% of his salary on Rent and one third of the remaining on transport. If he saves Rs 450 per month which is the half of the balance after spending on Rent and Transport, what is his monthly income?

- (A) 1125 (B) 2250
(C) 4500 (D) 2500

કલ્પેશ પોતાની આવકનો 40% ભાગ ભાડામાં અને બાકીના ભાગનો એક-તૃતીયાંશ પરિવહન પર ખર્ચ કરે છે. જો તે મહિને 450 રૂપિયાની બચત કરતો હોય તો ભાડા અને પરિવહન પર ખર્ચ કર્યા બાદ બચતી રકમ ના અડધા જેટલું હોય તેની મહિનાની આવક કેટલી?

- (A) 1125 (B) 2250
(C) 4500 (D) 2500

53 If the length of the rectangle is increased by 20% and breadth is decreased by 10% then the area of the rectangle is

- (A) Increased by 10% (B) Decreased by 10%
(C) Increased by 8% (D) Decreased by 8%

જો લંબચોરસની લંબાઈ 20% વધારવામાં આવે અને પહોળાઈ 10% ઘટાડવામાં આવે તો તેનું કુલ ક્ષેત્રફળ કેટલું?

- (A) 10% વધશે (B) 10% ઘટશે
(C) 8% વધશે (D) 8% ઘટશે

54 A person travels a certain distance at 3 km/hr and reaches 15 min late. If he travels at 4 km/hr, he reaches 15 min earlier. The distance he has to travel is

- (A) 4.5 km (B) 6 km
(C) 7.5 km (D) 12 km

એક વ્યક્તિ 3 કિમી/કલાકની ઝડપે ચોક્કસ અંતર કાપતા તે 15 મિનીટ મોડો પડે છે. જો તે 4 કિમી/કલાક ની ઝડપે આ અંતર કાપે તો 15 મિનીટ વહેલો પહોચી જશે. તો તેણે કાપવું પડતું કુલ અંતર કેટલું?

- (A) 4.5 કિમી (B) 6 કિમી
(C) 7.5 કિમી (D) 12 કિમી

55 50 kg of an alloy of lead and tin contains 60 % lead. How much lead must be melted in to it to make an alloy containing 75% lead?

- (A) 20 kg (B) 30 kg
(C) 25 kg (D) 40 kg

50 કિ.ગ્રા.ની સીસું અને ટીનની મિશ્રધાતુમાં સીસું 60% છે. સીસાનું પ્રમાણ 75% કરવા તેમાં કેટલું સીસું ઉમેરવું પડશે?

- (A) 20 કિગ્રા (B) 30 કિગ્રા
(C) 25 કિગ્રા (D) 40 કિગ્રા

56 Single discount equivalent to successive discounts of 10%,10% and 10% is

- (A) 30% (B) 10%
(C) 72.9% (D) 27.1%

કોઈ વસ્તુ પર 10%,10%,અને 10% એમ ક્રમિક ડિસ્કાઉન્ટ આપવામાં આવે છે. જો તેની સમકક્ષ એક જ વખત ડિસ્કાઉન્ટ આપવું હોય તો કેટલું આપવું જોઈએ?

- (A) 30% (B) 10%
(C) 72.9% (D) 27.1%

57 A candidate attempted 12 questions and secured full marks in all of them. If he scored 60% marks in the test and all questions carried equal marks, then what is the total number of questions in the test?

- (A) 20 (B) 25
(C) 30 (D) 24

એક ઉમેદવાર 12 પ્રશ્નોના જવાબ આપે છે અને બધામાં પૂરા ગુણ મેળવે છે. જો તે આ પરીક્ષામાં 60% ગુણ મેળવતો હોય અને પરીક્ષામાં બધા પ્રશ્નોના ગુણ એકસમાન હોય તો આ પરીક્ષામાં કુલ કેટલા પ્રશ્નો છે?

- (A) 20 (B) 25
(C) 30 (D) 24

58 A man borrows Rs.800 at 10% simple interest per annum and immediately lent the whole sum at 10% compound interest. How many rupees does he gain at the end of two years?

- (A) 6 (B) 10
(C) 12 (D) 8

એક વ્યક્તિ 10% ના વાર્ષિક વ્યાજ દરે સાદા વ્યાજ ઉપર 800 રૂપિયા ઉધાર લે છે અને તરત જ 10% ના વાર્ષિક વ્યાજદરે ચક્રવૃદ્ધિ વ્યાજ ઉપર ઉધાર આપે છે, તો 2 વર્ષ ના અંતે તેને કેટલા રૂપિયાનો લાભ થશે?

- (A) 6 (B) 10
(C) 12 (D) 8

59 Rs. 1150 is to be divided among A, B and C such a way that the ratio of share of A to that of B is equal to 3:2 and share of B to the share of C equals to 3:4. Find C's share.

(A) 400

(B) 450

(C) 300

(D) None of the above

1150 રૂપિયાની વહેંચણી A, B અને C ની વચ્ચે એ રીતે કરવાની છે કે A અને Bના ભાગનો ગુણોત્તર 3:2 અને B અને C ના ભાગનો ગુણોત્તર 3:4 હોય તો C ના ભાગમાં કેટલા રૂપિયા આવશે?

(A) 400

(B) 450

(C) 300

(D) ઉપરોક્તમાંથી એક પણ નહિ.

60 A is twice as fast as B and B is twice as fast as C. The distance covered by C in 54 min will be covered by A in

(A) 216 min

(B) 27 min

(C) 108 min

(D) 13.5 min

A એ B કરતા બમણો ઝડપી છે જ્યારે B એ C કરતા બમણો ઝડપી છે. C દ્વારા 54 મિનિટમાં પૂરું કરવામાં આવેલું અંતર A કેટલા સમયમાં પૂરું કરશે?

(A) 216 મિનિટ

(B) 27 મિનિટ

(C) 108 મિનિટ

(D) 13.5 મિનિટ

Read the following passage carefully and answer the question no. 61 to 63 given below :

Discussions on drug addiction should also be concerned with the vast majority of people who are not addicts. Their homes and lives are insecure because our narcotic laws drive such people to crime. The drug addict is almost never dangerous when he's under influence of drugs. What makes him dangerous is the desperate need for money to buy the next dose. Drugs are available only in an illegal black market. The costs are stupendous and this is what drives the addicts to steal, rob and even kill.

નીચેનો ફકરો કાળજીપૂર્વક વાંચી પ્રશ્ન નં. 61થી 63ના ઉત્તરો આપો:

માદક પદાર્થના વ્યસનની ચર્ચામાં, તે લોકો કે જે વ્યસની નથી તેમની તરફ પણ ધ્યાન જવું જોઈએ. તે લોકોના ઘર અને જીવન બંને અસલામત હોય છે, કારણકે આપણા નાર્કોટિક કાયદાઓ તેવા લોકોને ગુના કરવા તરફ ખેંચે છે. માદક પદાર્થનો વ્યસની જ્યારે નશામાં હોય છે ત્યારે તે જરા પણ ભયજનક નથી હોતો. તે માદક પદાર્થના નવા ડોઝ માટે જે રકમ જોઈએ છે તે તેને ભયજનક બનાવે છે. આ માદક પદાર્થો એ ફક્ત ગેરકાયદે ચાલતા કાળા બજારમાં જ મળે છે. માદક પદાર્થની કિંમત ખૂબ વધારે હોય છે અને તે જ વ્યસનીઓને ચોરી, લૂંટફાટ તેમજ કોઈની હત્યા તરફ ખેંચી લાવે છે.

61 According to the author, discussions of drug addiction are generally concerned with

- (A) Addicts
- (B) Non-addicts
- (C) Criminals
- (D) Black marketers

લેખકના વિચારો મુજબ નશાખોરીની ચર્ચા કોની સાથે સંલગ્ન છે?

- (A) નશાની લત ધરાવતા લોકો સાથે
- (B) નશાની લત ન ધરાવતા લોકો સાથે
- (C) ગુનેગારો સાથે
- (D) કાળાબજારી કરનારાઓ સાથે

62 Addicts take to criminal acts because

- (A) Drugs make them lose self-control
- (B) The habit of robbing and stealing is hard to break
- (C) They need large sums of money to buy drugs
- (D) Law is powerless against them

નશાખોરો ગુનાહિત પ્રવૃત્તિઓ આચરતા હોય છે કારણકે :

- (A) નશાની અસર હેઠળ તેઓ સ્વનિયંત્રણ ગુમાવી બેસે છે.
- (B) તેઓ માટે ચોરી અને લૂંટફાંટની આદત છોડવી મુશ્કેલ હોય છે.
- (C) નશીલી દવાઓ ખરીદવા તેઓને મોટી રકમની આવશ્યકતા હોય છે.
- (D) કાયદો આવા તત્વો સામે લાયક હોય છે.

63 The authors seems to criticize the narcotics laws for

- (A) Being too lenient
- (B) Being too complicated
- (C) Being ineffective
- (D) Driving addicts to crime

લેખક નશાવિરોધી કાનૂનોની ટીકા કરે છે કારણ કે આ કાયદાઓ

- (A) ખૂબ હળવી સજાવાળા છે
- (B) ખૂબ ગૂંચવાડા ભરેલા છે
- (C) બિનઅસરકારક હોય છે

(D) નશાખોરોને ગુના આચરવા માટે પ્રેરિત કરે છે.

Read the following passage carefully and answer Question no. 64 to 68

During his early days as editor of the popular magazine, Saturday Evening Post, George did much of the reading of the unsolicited stories. This meant endless hours of sitting at the desk, pouring over big stacks of manuscripts, trying to decide which were worthy of publication and which were not. George became an expert at making these decisions.

One day he received a letter from a would-be writer at a complaint." Last week you rejected my story" she wrote." I am positive you did not read it, because, as a test, I pasted together pages 14, 15 and 16." The manuscript came back with the pages still pasted. There is no question in my mind but that you are a sham and a disgrace to your profession."

George's reply was succinct: "Madam, at breakfast when I cracked open an egg, I don't have eat the whole egg to know it is bad."

નીચેનો ફકરો કાળજી પૂર્વક વાંચી પ્રશ્ન ક્રમાંક 64થી 68ના ઉત્તરો આપો.

એક ખાસ સામાયિક શનિવાર ઈવનિંગ પોસ્ટના તંત્રી જ્યોર્જ તેમના શરૂઆતના સમયમાં, ઘણી બધી અવાંછિત વાર્તાઓ વાંચી. આનો મતલબ એ કે તેઓએ ખૂબ લાંબો સમય ડેસ્ક ઉપર બેસી રહેવું પડતું, હસ્તપ્રતોના મોટા ઢગલામાંથી તે નક્કી કરવું કે કઈ પ્રકાશનને યોગ્ય છે અને કઈ નથી. જ્યોર્જ આ પ્રકારના નિર્ણયો લેવામાં ખૂબ પારંગત થઈ ગયો.

એક દિવસે તેમને એક લેખક બનવા માંગતા પાત્ર તરફથી ફરિયાદ આવી, "ગત અઠવાડિયે તમે મારી વાર્તા રીજેક્ટ કરી." તેણીએ લખ્યું "મને ખાતરી છે કે તમે તે વાંચી નથી, કારણ કે તમારી પરીક્ષા કરવા માટે મેં 14,15,16 નંબરના પાના જોડી દીધા હતા. એ હસ્તપ્રત જેવી રીતે પાના જોડેલ હતા તેવી જ પાછી આવી. મારા મગજમાં એ પ્રશ્ન નથી કે તમે તમારા વ્યવસાયના એક કલંક છો અને તમે બનાવટી છો."

જ્યોર્જનો જવાબ એકદમ સીધો અને સરળ હતો : "હેડમ, મારા નાસ્તા વખતે જ્યારે હું ઈડું ફોડું છું ત્યારે મારે ઈડું ખરાબ છે એ જાણવા માટે તેને આખું ખાવાની જરૂર નથી પડતી."

64 George did much the reading of stories

- (A) if they were the solicited ones
- (B) when they appear to be bad
- (C) when they were from women writers
- (D) when they came unsolicited

જ્યોર્જ મોટાભાગની વાર્તાઓ વાંચતા હતા

- (A) જ્યારે વાંછિત વાર્તાઓ આવી હોય
- (B) જ્યારે તે વાર્તાઓ ખરાબ માલુમ થતી હોય
- (C) જ્યારે તે મહિલા લેખકો દ્વારા મોકલવામાં આવી હોય
- (D) જ્યારે અવાંછિત વાર્તાઓ આવી હોય

- 65 George was a good editor because
 (A) His reply to the angry writer was polite
 (B) He apologized for rejecting the story without reading it
 (C) He could find the worth of a story with little effort
 (D) He was prompt in writing letters

જ્યોર્જ એક સારા સંપાદક હતા કારણ કે,

- (A) તેઓ ગુસ્સે થયેલા લેખકોને નમ્રતાથી જવાબ આપતા
 (B) વાંચ્યા વગર અસ્વીકાર કરેલ વાર્તા માટે તેમણે માફી માંગી
 (C) ખૂબ ઓછા શ્રમથી તેઓ વાર્તાની કિંમત જાણી શકતા હતા.
 (D) તેઓ ઝડપથી પત્રો લખી શકતા હતા.

- 66 The lady wrote a letter because
 (A) her story was rejected
 (B) a story was rejected without reading it.
 (C) her story was rejected although it was good
 (D) George was biased in his decision

મહિલાએ જ્યોર્જને પત્ર લખ્યો કારણ કે:

- (A) તેની કથાનો અસ્વીકાર કરવામાં આવ્યો હતો.
 (B) તેની કથાનો વાંચ્યા વગર અસ્વીકાર કરવામાં આવ્યો હતો.
 (C) તેની કથા સારી હોવા છતાં તેનો અસ્વીકાર કરવામાં આવ્યો હતો.
 (D) જ્યોર્જનો નિર્ણય પૂર્વગ્રહયુક્ત હતો.

- 67 George's reply was
 (A) Irrelevant (B) Rude
 (C) Witty (D) Angry

જ્યોર્જનો પ્રત્યુત્તર

- (A) અપ્રસ્તુત હતો (B) અવિવેકી
 (C) વિનોદી (D) ગુસ્સાવાળો

- 68 George read the stories
 (A) Because he enjoyed reading them.
 (B) In order to publish them.
 (C) Only to find fault with them.
 (D) In order to review them.

જ્યોર્જ વાર્તાઓ વાંચતા કારણ કે:

- (A) તેમને વાંચન ગમતું (B) વાર્તાઓ પ્રકાશિત કરવા હેતુ
 (C) માત્ર તેમાં ભૂલો કાઢવા માટે (D) સમીક્ષા કરવા માટે

Read the following passage carefully and answer the question no. 69 to 71 given below:

One of the most serious problems confronting our country is that of a fast-growing population. In fact, it is at the root of many other problems. At the moment, thanks to planning, we are able to produce food and clothes sufficient for our people and even in some excess. But if the population continues to grow at this rate, it will not be long before the surplus turns into a bare minimum and even a deficit. The position in regard to accommodation is even now far from satisfactory in spite of our efforts.

નીચેની ફકરો કાળજીપૂર્વક વાંચી પ્રશ્ન નં. 69-71ના ઉત્તરો આપો :

આપણા દેશની સામે જો કોઈ જુજ મુશ્કેલી હોય તો તે છે, ખૂબ ઝડપથી વધી રહેલી વસ્તી. અલબત્ત, તે ઘણી બધી મુશ્કેલીઓનું મૂળ કારણ છે. આ ક્ષણે આપણે આયોજનનો આભાર માનવો જોઈએ કે તેના દ્વારા આપણને પૂરતા પ્રમાણમાં અન્ન અને કપડાના ઉત્પાદન બાબત સક્ષમ થયા છીએ. પરંતુ, જો વસ્તી આ દરે જ વધતી રહેશે તો આ વધારો અછતમાં બદલાતા વાર નહિ લાગે. આપણા પ્રયાસો કરવા છતાં આપણે રહેઠાણ બાબતે ઘણા પાછળ છીએ.

69 It is 'at the root of many other problems' means that

- (A) It is found along with many other problems
- (B) We are not able to see their causes.
- (C) It gives rise to many other problems
- (D) It is buried under many other problems

“આ ઘણી સમસ્યાઓનું મૂળ છે” તેનો મતલબ

- (A) તે અન્ય કેટલીય સમસ્યાઓની સાથે જોવા મળે છે.
- (B) તેના કારણો આપણે જોઈ શકતા નથી.
- (C) તે અન્ય ઘણી સમસ્યાઓને જન્મ આપે છે.
- (D) એ અન્ય ઘણી સમસ્યાઓની નીચે દબાયેલું છે.



- 70 .The present satisfactory position in regard to food and clothes is due to
- (A) the fact that the population has been controlled
 - (B) our good luck
 - (C) good rainfall
 - (D) our economic planning

હાલ ખોરાક અને કપડામાં સંતોષજનક સ્થિતિનું કારણ શું છે?

- (A) વસ્તી નિયંત્રણમાં આવી છે.
- (B) આપણું નસીબ સારું છે.
- (C) વરસાદ સારો પડ્યો છે.
- (D) આપણું આર્થિક આયોજન

- 71 If the population of India continues to increase at this rate, the situation in regard to food and clothes

- (A) Is likely to remain the same
- (B) Is likely to become less satisfactory
- (C) Is likely to improve
- (D) Is likely to vary up and down.

જો ભારતની વસ્તી આ જ દરે વધતી રહેશે તો ખોરાક અને કપડાના અનુસંધાનમાં પરિસ્થિતિ શું હશે?

- (A) જેમની તેમ જ રહેશે
- (B) પહેલાથી ઓછી સંતોષકારક થશે
- (C) સુધરી જશે.
- (D) વધઘટ થયા કરશે.

Read the following passage carefully and answer the question no. 72 to 75 given below :

One day a tea contractor, Mr. Joshi was working on an estate with his wife and daughter. He noticed a light movement on the edge of the jungle, so he stopped to watch for a moment. To his astonishment, a large tigress appeared and came towards Mr. Joshi. The tea contractor was a very brave man. He told his wife and daughter to run towards a nearby road, while he stepped to fight the tigress with a knife.

The tigress sprang at Mr. Joshi and knocked him down but he managed to wound it with his knife. As a result, the tigress and Mr. Joshi knocked each other unconscious. Luckily for Mr. Joshi, a friend heard the noise of the fight and came to investigate. He found Mr. Joshi and carried him to the road. Then he stopped a car and sent the injured man to a hospital, where he eventually recovered.

The tigress disappeared for a few days but was later hunted down and shot by a game ranger. The game ranger discovered that the tigress had injured her paw in a wire trap and had been unable to hunt wild animals in its normal manner.

નીચેનો ફકરો કાળજીપૂર્વક વાંચી પ્રશ્ન નં. 72-75ના ઉત્તરો આપો :

એક દિવસે ચાના એક કોન્ટ્રાક્ટર, શ્રીમાન જોષી તેમની વસાહત ઉપર તેમના પત્ની અને દીકરી સાથે કામ કરી રહ્યા હતા. તેમણે જંગલના છેડે કોઈક હલન-ચલન જોયું, તે જોવા માટે તેઓ એક ક્ષણ માટે રોકાયા. તેમને અચંબામાં મૂકી દે તેમ એક વાઘણ તેમની નજીક આવી પહોંચી. તેઓ ખૂબ શૂરવીર હતા. તેઓએ તેમના પત્ની અને પુત્રીને કહ્યું કે, તમે નજીકના રોડ તરફ જાઓ, ત્યાં સુધી તેઓ પેલી વાઘણ તરફ તીક્ષ્ણ હથિયાર લઈને આગળ વધ્યા.

વાઘણ શ્રીમાન જોષી તરફ આગળ વધી અને તેમને નીચે પાડી દીધા, પરંતુ તેમણે પોતાના છુરાથી વાઘણને નુકશાન પહોંચાડ્યું. પરિણામે વાઘણ અને શ્રીમાન જોષી બંને બેભાન હાલતમાં નીચે પડ્યા. શ્રીમાન જોષીના નસીબ જોગ તેમના એક મિત્ર એ લડાઈનો અવાજ સાંભળતા, તેઓએ આવીને ચકાસણી કરી. તેઓએ શ્રીમાન જોષીને શોધ્યા અને તેમને રોડ સુધી લઈ ગયા. તેમને ગાડી રોકી અને ઘવાયેલા માણસને દવાખાને લઈ ગયા, ત્યાં તેઓ હોશમાં આવ્યા.

આ વાઘણ થોડા દિવસ માટે અદ્રશ્ય થઈ ગઈ. પરંતુ, તેનો થોડા સમયમાં એક રેન્જર દ્વારા શિકાર થઈ ગયો. ગેમ રેન્જરને જાણવા મળ્યું કે વાઘણનો પગ એક વાયર-ટ્રેપમાં ઘવાયેલ હતો. તેના કારણે તે જંગલી પ્રાણીઓનો શિકાર કરી શકતી ન હતી.

- 72 When did Mr. Joshi's friend go to see what was wrong?
 (A) When he saw the tigress attacking his friend
 (B) just before the tigress was knockdown
 (C) when the friend was knockdown
 (D) when he heard something unusual

કંઈક ગડબડ છે એવું જોવા માટે જોશીનો મિત્ર ક્યારે આવ્યો?

- (A) જ્યારે તેણે વાઘણને પોતાના મિત્ર પર હુમલો કરતા જોઈ.
 (B) વાઘણ નીચે પટકાઈ ગઈ.
 (C) જ્યારે તેનો મિત્ર નીચે પટકાઈ ગયો.
 (D) જ્યારે તેને કંઈક અસામાન્ય અવાજ સંભળાયો.

- 73 When Mr. Joshi saw the tigress, he was
 (A) surprised (B) afraid
 (C) nervous (D) angry

જ્યારે જોશીએ વાઘણને જોઈ, તે

- (A) આશ્ચર્યચકિત થયા (B) ગભરાઈ ગયો.
 (C) મૂંઝાઈ ગયો (D) ગુસ્સામાં આવી ગયો

- 74 Mr. Joshi stayed on to fight the tigress for
 (A) he wanted to try to protect his wife and daughter
 (B) he was a strong man who loved fighting
 (C) he couldn't run as quickly as his wife
 (D) the tigress caught him before he could run

જોશી વાઘણ સાથે લડવા રોકાઈ ગયો કારણ કે

- (A) તે પોતાની પત્ની અને દીકરીને બચાવવા માંગતો હતો
 (B) તે એક મજબૂત પુરુષ હતો જેને લડાઈ પસંદ હતી
 (C) તે પોતાની પત્ની જેટલી ઝડપથી ભાગી ન શક્યો.
 (D) તે ભાગી શકે એ પહેલા વાઘણે તેને પકડી લીધો.

- 75 The tigress had injured her paw
 (A) from the knife attack by Mr Joshi
 (B) gun shot of a game ranger
 (C) in a fight with another tigress
 (D) in a wire trap

વાઘણનો પંજો ઘાયલ થઈ ગયો કારણ કે

- (A) જોશીએ તેના પર ચપ્પાથી હુમલો કરી દીધો હતો.
 (B) શિકારીએ તેના પર બંદુક ચલાવી હતી
 (C) અન્ય વાઘણ જોડે તેની લડાઈ થઈ હતી.
 (D) એ વાયર ટ્રેપમાં તે ફસાઈ ગઈ હતી.

Read the following passage carefully and answer the question no. 76-80 given below :

Finally, there arises the question as to our leadership potential. Although the entire younger generation by very definition is a potential storehouse of leadership, I feel that our universities provide the huge reservoir from which the future leaders of this country will be forthcoming. I have had occasion to travel fairly, extensively and to visit a number of university centres in the country. It is deeply encouraging to see that despite the economic and other difficulties which these young men and women how to face they are full of energy and idealism. The real question is whether we have the ability and imagination to tap this reservoir, to fan the sparks of youthful idealism into bright flames that would illuminate the future of India – the India of our dreams for the building of which countless generations have struggled and sacrificed; and India socially emancipated, economically prosperous, politically integrated, militarily strong and spiritually dynamic.

નીચેનો ફકરો કાળજીપૂર્વક વાંચી પ્રશ્ન નં. 76-80ના ઉત્તરો આપો :

છેવટે, આપણી નેતૃત્વ ક્ષમતા ઉપર પ્રશ્ન ઉદ્ભવે છે. જોકે આપણી આખી નવી પેઢી તેની વ્યાખ્યા પ્રમાણે નેતૃત્વ માટેનો એક સમૂહ છે, મને લાગે છે કે આપણી વિદ્યાશાખાઓ આપણા દેશ માટે ભવિષ્યના નેતૃત્વ કરનારા લોકોનો સ્રોત છે. તે જાણીને એ ખુશી થાય છે કે આર્થિક અને બીજી મુશ્કેલીઓનો આ યુવાન અને યુવતીઓ સામનો કરવા છતાં તેઓ ખૂબ જ ઉત્સાહ અને આદર્શથી ભરેલા છે. મુદ્દાનો પ્રશ્ન એ છે કે શું આપણી પાસે એ ક્ષમતા તેમજ વિચારશીલતા છે કે જેનાથી આપને આ સ્રોતનો યોગ્ય ઉપયોગ કરી શકીએ, તેમજ આ ભરજુવાનીવાળા આદર્શોને એક ઝળહળતી જ્યોત બનાવીએ કે જેનાથી તેઓ ભારતના ભવિષ્યને ઉજાગર કરે, આપણા સપનાનું ભારત બનાવે કે જેને બનાવવામાં અસંખ્ય પેઢીઓ એ સંઘર્ષ અને બલિદાન આપ્યા છે, ભારતને સામાજિક રીતે મુક્ત, આર્થિક રીતે સમૃદ્ધ, રાજકીય રીતે જોડાયેલ, લશ્કરી રીતે મજબૂત અને ધાર્મિક રીતે ગતિશીલ બનાવે.

76 The writer believes that India is

1. Socially emancipated
2. Economically prosperous
3. Spiritually dynamic

correct choices

- (A) Only 1 and 2 (B) Only 2 and 3
(C) All 1, 2 and 3 (D) None of them

લેખક માને છે કે ભારત

1. સામાજિક રીતે મુક્ત
2. આર્થિક રીતે સદ્ગર
3. આધ્યાત્મિક રીતે ગતિશીલ

સાચા વિકલ્પો

- (A) માત્ર 1 અને 2 (B) માત્ર 2 અને 3
(C) 1,2 અને 3 બધા જ. (D) આપેલ પૈકી એકેય નહીં

77 What is the author's tone in this passage?

- (A) Optimistic (B) autocratic
(C) pessimistic (D) Partisan

આ ફકરામાં લેખકનું વલણ કેવું છે?

- (A) આશાવાદી (B) આપખુદી
(C) નિરાશાવાદી (D) પક્ષપાતી

78 Where will the future leaders of the country mainly come from?

- (A) the families of present political leaders
(B) the community of social scientists
(C) the universities
(D) the entire younger generation

દેશના ભાવિ-નેતાઓ મુખ્યતઃ ક્યાંથી આવશે?

- (A) હાલના રાજનેતાઓનાં કુટુંબોમાંથી
(B) સમાજશાસ્ત્રીઓના સમુદાયમાંથી
(C) વિશ્વવિદ્યાલયોમાંથી
(D) આખી યુવા પેઢીમાંથી

79 For realizing the India of our dream we should _____.

- (A) have an imagination to exploit our budding leadership potential
- (B) admire the sacrifices made by several generations
- (C) bring about more technological advancements
- (D) provide better facilities for sports

આપણા સ્વપ્નોનાં ભારતને પામવા માટે

- (A) આપણા ઉભરતા નેતૃત્વનો મહત્તમ ઉપયોગ કરવાની કલ્પના જરૂરી છે.
- (B) અગાઉની પેઢીઓ આપેલ બલિદાનોની પ્રસંશા કરવાની જરૂર છે.
- (C) આધુનિક ટેકનોલોજી લાવવાની જરૂર છે.
- (D) રમત-ગમત માટે સારી સવલતો આપવાની જરૂર છે.

80 What is deeply encouraging about educated young men and women of India?

- (A) they come from the richest reservoirs of leaders
- (B) they are full of energy and idealism because of quality education
- (C) they are full of youthful idealism and imagination
- (D) they are full of energy and idealism in spite of economic and other difficulties they face as students

ભારતના શિક્ષિત યુવક અને યુવતીઓ વિષે કઈ બાબત પ્રોત્સાહનજનક છે?

- (A) તેઓ નેતાગીરીના સમૃદ્ધ સ્ત્રોતો છે.
- (B) સારા શિક્ષણને લીધે તેઓ ઊર્જા અને આદર્શવાદથી પરિપૂર્ણ છે.
- (C) તેઓ યુવા આદર્શ અને કલ્પનાથી પરિપૂર્ણ છે.
- (D) પોતાની આર્થિક અને અન્ય મુશ્કેલીઓ છતાં, તેઓ ઊર્જા અને આદર્શવાદથી પરિપૂર્ણ છે.

SPACE FOR ROUGH WORK / રફ કામ માટેની જગ્યા



પરીક્ષા પૂરી થયા બાદ ઉત્તરવહી (OMR SHEET) વર્ગ નિરીક્ષકને
પરત કર્યા બાદ જ વર્ગખંડ છોડવાનો રહેશે.
જો તેમ કરવામાં કસૂર થયેથી શિસ્તભંગનાં પગલાં ગણી
પરીક્ષા માટે જે તે ઉમેદવારને ગેરલાયક ઠેરવવામાં આવશે.



CSSC-GS-II-VRS-2015									
0	Ans_0	A	Ans_A	B	Ans_B	C	Ans_C	D	Ans_D
1	A	31	A	51	A	11	A	61	A
2	C	32	C	52	C	12	C	62	C
3	D	33	D	53	D	13	D	63	D
4	D	34	D	54	D	14	D	64	D
5	C	35	C	55	C	15	C	65	C
6	B	36	B	56	B	16	B	66	B
7	C	37	C	57	C	17	C	67	C
8	B	38	B	58	B	18	B	68	B
9	C	39	C	59	C	19	C	69	C
10	D	40	D	60	D	20	D	70	D
11	B	41	B	61	B	21	B	71	B
12	D	42	D	62	D	22	D	72	D
13	A	43	A	63	A	23	A	73	A
14	A	44	A	64	A	24	A	74	A
15	D	45	D	65	D	25	D	75	D
16	D	46	D	66	D	26	D	76	D
17	A	47	A	67	A	27	A	77	A
18	C	48	C	68	C	28	C	78	C
19	A	49	A	69	A	29	A	79	A
20	D	50	D	70	D	30	D	80	D
21	A	51	A	71	A	31	A	1	A
22	B	52	B	72	B	32	B	2	B
23	B	53	B	73	B	33	B	3	B
24	D	54	D	74	D	34	D	4	D
25	D	55	D	75	D	35	D	5	D
26	B	56	B	76	B	36	B	6	B
27	D	57	D	77	D	37	D	7	D
28	D	58	D	78	D	38	D	8	D
29	D	59	D	79	D	39	D	9	D
30	B	60	B	80	B	40	B	10	B
31	D	61	D	1	D	41	D	11	D
32	D	62	D	2	D	42	D	12	D
33	D	63	D	3	D	43	D	13	D
34	A	64	A	4	A	44	A	14	A
35	D	65	D	5	D	45	D	15	D
36	D	66	D	6	D	46	D	16	D
37	B	67	B	7	B	47	B	17	B
38	D	68	D	8	D	48	D	18	D
39	B	69	B	9	B	49	B	19	B
40	D	70	D	10	D	50	D	20	D
41	B	71	B	11	B	51	B	21	B
42	A	72	A	12	A	52	A	22	A
43	C	73	C	13	C	53	C	23	C
44	D	74	D	14	D	54	D	24	D
45	A	75	A	15	A	55	A	25	A
46	C	76	C	16	C	56	C	26	C
47	B	77	B	17	B	57	B	27	B
48	D	78	D	18	D	58	D	28	D

CSSC-GS-II-VRS-2015									
Q	Ans_Q	A	Ans_A	B	Ans_B	C	Ans_C	D	Ans_D
49	D	79	D	19	D	59	D	29	D
50	B	80	B	20	B	60	B	30	B
51	B	1	B	21	B	61	B	31	B
52	A	2	A	22	A	62	A	32	A
53	A	3	A	23	A	63	A	33	A
54	C	4	C	24	C	64	C	34	C
55	B	5	B	25	B	65	B	35	B
56	C	6	C	26	C	66	C	36	C
57	C	7	C	27	C	67	C	37	C
58	A	8	A	28	A	68	A	38	A
59	C	9	C	29	C	69	C	39	C
60	C	10	C	30	C	70	C	40	C
61	A	11	A	31	A	71	A	41	A
62	C	12	C	32	C	72	C	42	C
63	A	13	A	33	A	73	A	43	A
64	B	14	B	34	B	74	B	44	B
65	D	15	D	35	D	75	D	45	D
66	A	16	A	36	A	76	A	46	A
67	D	17	D	37	D	77	D	47	D
68	A	18	A	38	A	78	A	48	A
69	B	19	B	39	B	79	B	49	B
70	B	20	B	40	B	80	B	50	B
71	D	21	D	41	D	1	D	51	D
72	B	22	B	42	B	2	B	52	B
73	C	23	C	43	C	3	C	53	C
74	B	24	B	44	B	4	B	54	B
75	B	25	B	45	B	5	B	55	B
76	D	26	D	46	D	6	D	56	D
77	A	27	A	47	A	7	A	57	A
78	D	28	D	48	D	8	D	58	D
79	A	29	A	49	A	9	A	59	A
80	D	30	D	50	D	10	D	60	D